

선택과목

경제

71. 다음 진술과 공통적으로 관계 깊은 경제 개념은?

- 이자율이 높으면 화폐에 대한 수요가 줄게 된다.
- 근로자는 임금과 여가의 가치를 비교하여 노동 공급량을 결정한다.
- 명문 대학에 재학하던 유명 가수가 학업을 포기하고 가수 활동에만 전념하기로 하였다.

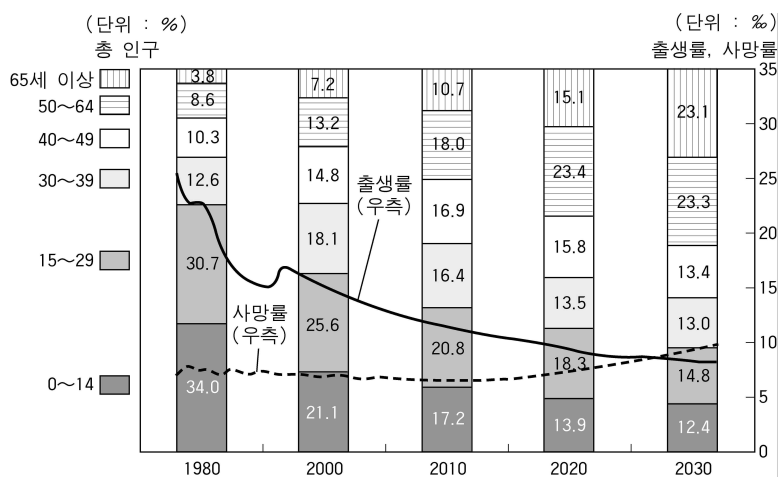
- ① 효율성 ② 공평성 ③ 비교 우위
 ④ 기회 비용 ⑤ 외부 효과

72. 다음 신문 기사를 보고 정부의 목표 달성이 가능할 것인지 탐구하려고 한다. 조사해야 할 경제 지표로 가장 거리가 먼 것은?

정부의 경제 비전은 2010년 1인당 국민 소득(GDP) 2만 달러 목표를 달성하는 것이다. 1인당 국민 소득 2만 달러가 넘는 20개국은 현재 우리 수준인 1만 달러에서 2만 달러로 가는데 평균 9.4년이 걸렸다.

- ① 물가 지수 ② 국내 총생산 ③ 경제 성장률
 ④ 인구 증가율 ⑤ 계층별 소득 분포

73. 그림은 우리 나라 연령별 인구 구성과 출생률 및 사망률의 추세이다. 이를 토대로 이와 같은 변화가 경제에 미칠 영향을 추론한 것 중 옳지 않은 것은?



- ① 연금 수급자의 증가로 재정 지출이 늘어날 것이다.
 ② 노년층에 특화된 상품 및 서비스에 대한 수요가 확대될 것이다.
 ③ 노년층의 취업 기회 확대 및 정년 연장의 요구가 증대할 것이다.
 ④ 노동 가능 인구의 고령화로 숙련도와 노동 생산성이 향상될 것이다.
 ⑤ 청·장년층의 고령 인구에 대한 부양 비용의 부담이 늘어날 것이다.

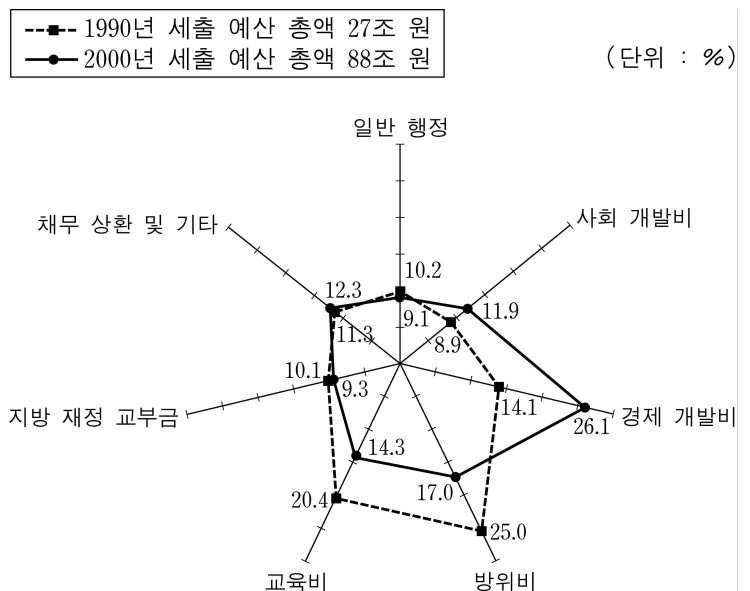
74. 다음 신문 기사를 보고 나눈 대화 중 옳은 내용을 <보기>에서 모두 고른 것은? [2점]

칠레는 한국과의 자유 무역 지대(FTA) 조약 체결을 통해 한국에 대한 자국 농산물의 더 많은 수출보다는 칠레에 대한 한국 기업의 설비 투자 확대를 더 바라고 있다. ... (중략) ... 칠레는 아르헨티나, 브라질, 파라과이, 우루과이 등 남미 공동 시장(MERCOSUR) 4개국과 사실상 FTA 성격인 관세 동맹을 맺고 있으며 이 협정은 내년부터 발효된다.

- <보 기>
 ㄱ. 갑 : FTA 조약은 유럽 연합(EU)과 비교하면 낮은 단계의 경제 통합이라고 볼 수 있어.
 ㄴ. 을 : 우리 국민 모든 계층에게 이익이 되므로 칠레와의 FTA 조약 체결을 빨리 마무리지어야 해.
 ㄷ. 병 : 칠레에 투자해 공장을 운영하는 우리 기업들은 남미 공동 시장 때문에 남미 시장 진출이 어렵게 될 거야.
 ㄹ. 정 : 칠레는 농업 부문에서, 우리 나라는 공업 부문에서 비교 우위를 가지고 있어서 FTA 조약 체결을 추진해 왔던 거야.

- ① ㄱ, ㄴ ② ㄱ, ㄹ ③ ㄴ, ㄷ ④ ㄴ, ㄹ ⑤ ㄷ, ㄹ

75. 그림은 우리 나라 중앙 정부의 세출 예산 총액과 부문별 비율의 변화를 나타낸 것이다. 이를 통해 알 수 있는 내용을 <보기>에서 모두 고른 것은? [2점]



- <보 기>
 ㄱ. 세출이 경제적 성질별로 분류되어 있다.
 ㄴ. 교육비와 방위비의 세출 예산액의 절대 규모가 줄어들고 있다.
 ㄷ. 정부가 어떤 종류의 서비스를 얼마만큼 공급하고 있는지 알 수 있다.
 ㄹ. 사회 간접 자본 확충 및 국가 발전 전략 산업 등에 대한 지원을 확대하고 있다.

- ① ㄱ, ㄴ ② ㄱ, ㄷ ③ ㄴ, ㄷ ④ ㄴ, ㄹ ⑤ ㄷ, ㄹ

18 인문계 사회탐구 · 과학탐구 영역

76. 다음 현상과 관계 깊은 내용을 <보기>에서 모두 고른 것은?

[2점]

교육은 받은 사람들 자신에게 유익할 뿐만 아니라, 주위의 많은 사람들에게도 긍정적인 영향을 준다. 예를 들어, 교육을 많이 받은 과학자가 발견한 과학 기술은 많은 사람들의 삶의 질을 향상시키는 데 이용될 수 있다.

<보 기>

- ㄱ. 기업의 기술 개발 파급 효과도 이와 유사한 현상이다.
- ㄴ. 교육 자원이 시장을 통하여 효율적으로 배분되고 있다.
- ㄷ. 교육을 통해 얻게 되는 개인적 혜택과 사회적 혜택이 동일하다.
- ㄹ. 가계의 교육비 지출에 대한 세금을 감면하여 교육 소비를 장려할 필요가 있다.

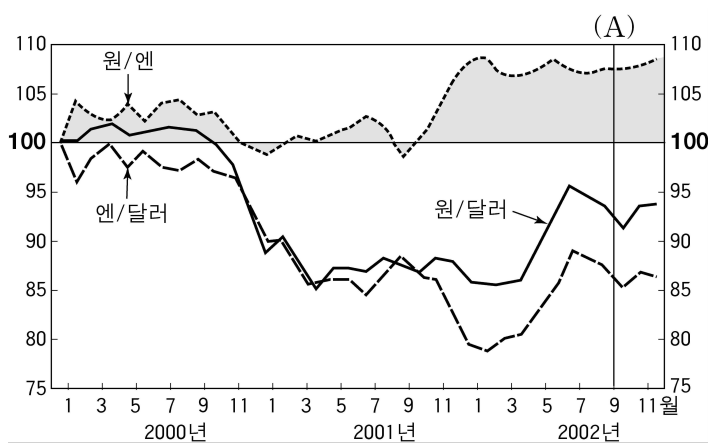
- ① ㄱ, ㄴ ② ㄱ, ㄹ ③ ㄴ, ㄷ ④ ㄴ, ㄹ ⑤ ㄷ, ㄹ

77. 다음 정책을 실시할 때, 정부가 기대하는 경제 효과와 거리가 먼 것은?

- 한국 은행은 금리를 4.0%에서 3.75%로 인하하였다.
- 국회는 4조 4,775억 원의 추가 경정 예산을 통과시키고, 근로 소득세 감면과 특별 소비세 인하를 결정하였다.
- 정부는 기업이 설비 투자를 할 경우 투자 금액의 일부를 법인세에서 깎아주는 임시 투자세액 공제율을 10%에서 15%로 높여주기로 하였다.

- ① 물가 하락 ② 투자 증가 ③ 실업 감소
④ 소비 증가 ⑤ 총수요 증가

78. 다음은 2000년 1월 원/달러, 원/엔 및 엔/달러의 환율을 각각 100으로 하여 변화 추이를 살펴본 자료이다. 이를 토대로 2000년 1월과 2002년 9월(A)을 비교할 때 올바른 해석 또는 추론을 <보기>에서 모두 고른 것은? [2점]



<보 기>

- ㄱ. 원화나 엔화의 가치가 달러화에 비해 높아졌다.
- ㄴ. 우리 나라는 일본과 미국에 대한 수출이 유리해졌다.
- ㄷ. 우리 나라에 수입된 미국 상품의 원화 표시 가격이 올라갔다.
- ㄹ. 일본의 미국에 대한 수출 경쟁력은 우리 나라보다 더욱 약화되었다.

- ① ㄱ, ㄴ ② ㄱ, ㄷ ③ ㄱ, ㄹ ④ ㄴ, ㄷ ⑤ ㄷ, ㄹ

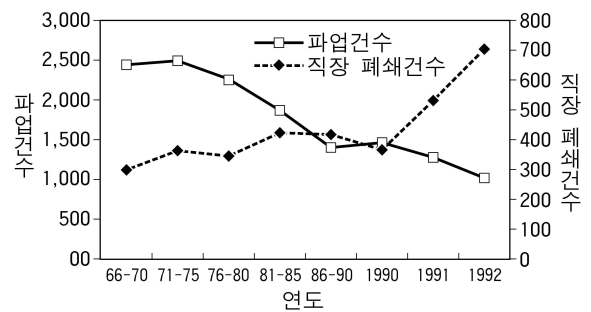
79. 다음을 토대로 한 해석이나 추론이 옳지 않은 것은? [2점]

햄버거 시장의 균형 가격은 한 개당 3,000원이고 균형 거래량은 하루 100개이다. 정부가 햄버거의 공급자에게 한 개당 300원의 세금을 부과하였더니 균형 가격이 3,150원, 균형 거래량이 90개가 되었다.

- ① 햄버거 시장에서의 조세 수입은 300원×90개이다.
- ② 수요자가 지불하는 햄버거의 가격은 한 개당 3,150원이다.
- ③ 정부가 햄버거의 판매에 세금을 부과하여 수요량이 감소하였다.
- ④ 공급자가 세금을 납부하고 받는 가격은 한 개당 3,150원 - 300원 = 2,850원이다.
- ⑤ 햄버거를 판매할 때 공급자에게 세금이 부과되었기 때문에 공급량이 감소하였다.

80. 다음은 인도(印度)의 경제 자유화 프로그램 전후의 노사 관계에 대한 자료이다.

1990년 경제 자유화 프로그램이 시작되기 이전에 인도 정부는 기업을 보호하기 위하여 경쟁을 제한하는 정책을 실시하였다. 이로 인해 기업은 근로자의 권리를 보장하기 위한 비용을 소비자에게 전가하고, 노동 비용을 줄이려 하지 않았다. 또한 근로자들도 노동 조합 활동을 통해 경쟁 제한 정책의 이익 일부를 획득할 수 있었다.



※직장 폐쇄 : 기업이 노동 쟁의 행위에 맞서 근로자의 작업 수행을 못하게 하는 경영 행위로 직장 폐쇄 중 기업은 임금을 지불하지 않아도 된다.

이 자료를 토대로 인도의 경제 자유화 프로그램 이후 나타난 사실에 대한 올바른 추론을 <보기>에서 모두 고른 것은?

<보 기>

- ㄱ. 근로자들이 노동 조합 활동에 참여할 유인이 늘어났다.
- ㄴ. 경쟁에 직면한 기업은 노동 조합의 압력에 대항하지 못하게 되었다.
- ㄷ. 근로자들은 자신들의 요구가 고용에 미칠 수 있는 영향을 의식하게 되었다.
- ㄹ. 기업은 근로자들의 임금 인상 요구를 이전의 방법으로 해결하기 어려워졌다.

- ① ㄱ, ㄴ ② ㄱ, ㄷ ③ ㄱ, ㄹ ④ ㄴ, ㄷ ⑤ ㄷ, ㄹ

* 확인 사항

- 답안지의 해당란에 필요한 내용을 정확히 기입(표기)했는지 확인한 후 답안지를 제출하십시오.